

LBRIS

We know
by Mihaela-Ada Radu

Anina Bădescu



MATEMATICĂ ȘI EXPLORAREA MEDIULUI

caiet pentru **clasa I**

semestrul

1



Hai la școală!

Din vacanță	4
Trenul veseliei	9
Iată cât de multe știi!	11

Toamna darnică

Roata anotimpurilor	12
Salata de fructe	13
În pădure	14
Rețeta de zacuscă	15
Bunătăți din cămară	18
Să repetăm!	19
Iată cât de multe știi!	21

În lumea plantelor

Magazinul de flori	22
În seră	24
Cum cresc plantele	27
Să repetăm!	29
Iată cât de multe știi!	30

Necuvântătoare

În ograda mea	31
La fermă	33
Lecția despre animale	34
La grădina zoologică	37
Animalele, prietenele mele	39
Să repetăm!	41
Iată cât de multe știi!	42

Învăț despre mine

Corpul meu	43
Cum cunoaștem lumea	47
Cresc sănătos	49
Să repetăm!	52
Iată cât de multe știi!	53

Importanța apei

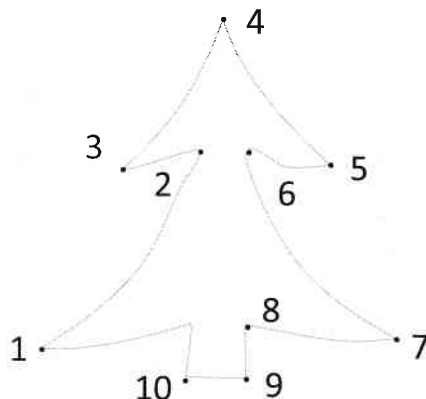
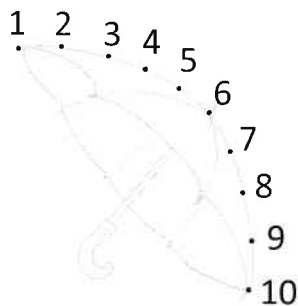
Unde există apă?	54
Picături de ploaie	56
De la nori până la mare	62
Avem nevoie de apă	65
Să repetăm!	67
Iată cât de multe știi!	69

Să repetăm! (recapitulare semestrială)	70
---	-----------

Iată cât de multe știi! (evaluare semestrială)	74
---	-----------

Anexe	75
--------------------	-----------

1 Unește numerele în ordine crescătoare și vei afla la ce se gândesc cei doi copii.



2 Scrie în casete numerele corespunzătoare mulțimilor. Unește fiecare mulțime cu eticheta anotimpului potrivit.




PRIMĂVARA

VARA



TOAMNA

IARNA



3 Taie cât este necesar pentru a avea în fiecare mulțime numărul de elemente scris în casetă.



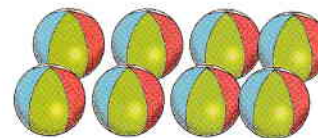
2



4





3

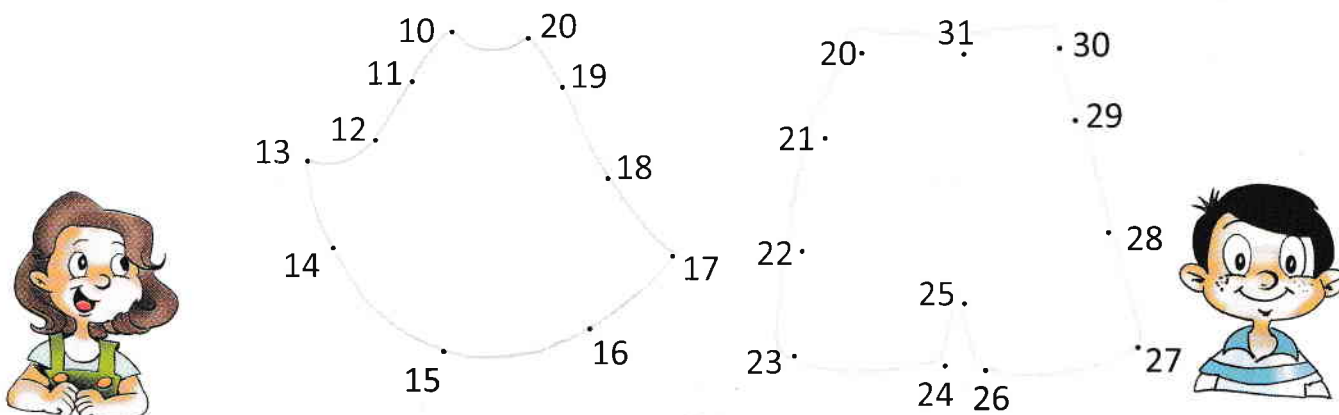


5

4 Trasează după model.



5 Descoperă ce obiect de îmbrăcăminte și-a cumpărat fiecare copil, unind punctele în ordinea crescătoare a numerelor.



6 Unește etichetele cu părțile corespunzătoare ale corpului omenesc.



CAP


TRUNCHI

MEMBRE




7 Colorează:



a. Siluetele cu numere mai mari decât 17.



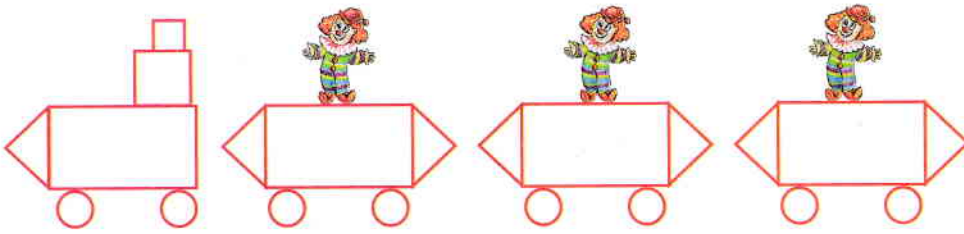
b. Siluetele cu numere mai mari decât 24, dar mai mici decât 30.



8 Trasează după model.



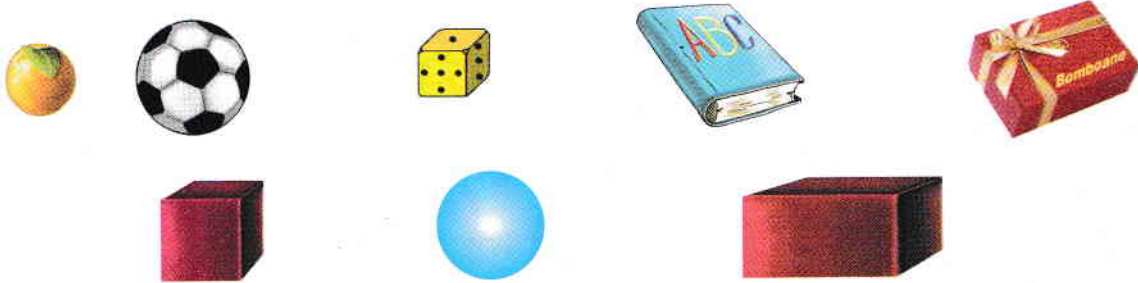
1 Scrie din câte figuri de fiecare fel este compus trenulețul.



2 Trasează peste linia punctată. Colorează.



3 Unește fiecare corp geometric cu obiectul cu formă asemănătoare.





4 Colorează casetele corespunzător codului dat.

deasupra dedesubt în față în spate stânga dreapta

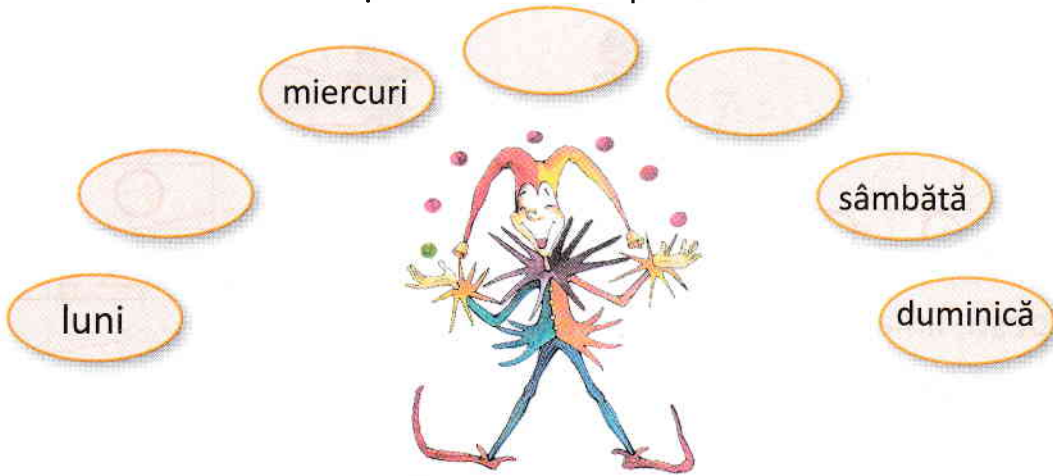


5 Trasează după model.




Recapitularea cunoștințelor din clasa pregătitoare.
Figuri și corpuri geometrice. Orientare spațială.

6 Scrie numele zilelor săptămânii care lipsesc.



7 Colorează: cu verde lunile de primăvară, cu galben pe cele de vară, cu portocaliu pe ale toamnei și cu albastru lunile iernii.



8 Încercuiește bancnotele cu care trebuie să plătească fiecare copil baloanele cumpărate.



9 Arată folosind săgețile care este unitatea de măsură potrivită pentru fiecare lungime.

